

TALLER DE MATEMATICAS

1. COMPLETA LAS SIGUIENTES SERIES DE NUMEROS Y LUEGO ESCRIBE EL QUE VA ANTES Y DESPUES:

990	991					996			

1.097	1.098								

2.290	2.291					2.296			

2.397	2.398								2.406

3.495	3.496					3.501			
3.505									

4.988	4.989								4.997

ANTES		DESPUES
	991	
	999	
	1.098	
	2.296	
	3.505	
	4.989	
	1.099	
	3.499	

[HTTP://WWW.COLORIAGE-ENFANTS.COM](http://www.coloriage-enfants.com)




ANTES		DESPUES
	2.399	
	2.409	
	1.009	
	4.998	
	2.300	
	3.510	
	5.006	
	1.000	

	2.409	
	5.000	
	4.999	
	2.299	
	1.009	

	4.990	
	2.300	
	1.010	
	5.007	
	1.117	

2. ENCUENTRA EL NUMERO QUE VA ENTRE LOS DOS Y COLOREA SEGÚN LA RESPUESTA:



ANTES	ENTRE	DESPUES	COLOR
1.009		1.011	Verde
999		1.001	Marrón
1.098		1.100	Naranja
2.296		2.298	amarillo
3.505		3.507	Verde
4.989		4.991	Azul
4.999		5.001	Gris
3.499		3.501	morado
5.009		5.011	rojo

3. ESCRIBIR SI ES MAYOR, MENOR O IGUAL:

4.099		4.999
5.000		500
1.043		1.430

999		1.000
3.499		3.500
6.600		6.600

8.380		8.830
6.333		6.331
4.299		4.289

1.999		2.000
-------	--	-------

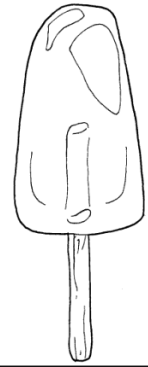
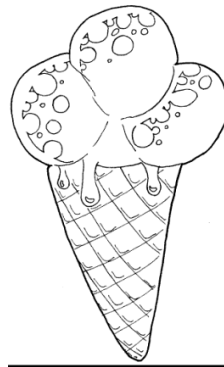
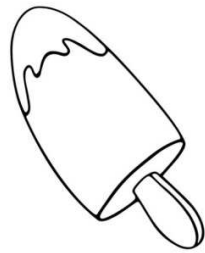
7.520		7.521
-------	--	-------

9.599		9.600
-------	--	-------



4. OBSERVA LA TABLA DE PRECIOS Y ESCRIBE COMO SE LEE CADA DATO:

JUGUETE	PRECIO	SE LEE
Robot	\$ 9.953	
Patineta	\$ 8.602	
Pelota	\$ 4.069	
Carrito	\$ 1.377	
muñeca	\$ 5.013	

5. RELACIONA EL SABOR DE CADA HELADO CON SU PRECIO: (UM - C - D - U)



Limón	uva	fresa	Naranja
\$	\$	\$	\$



mandarina	mango	mora	Chocolate
-----------	-------	------	-----------


\$	\$	\$	\$
----	----	----	----

SABOR	PRECIO	SE LEE
Limón	1U+1UM+9C	
Uva	2C+5D+2UM	
Fresa	9C+3UM+5U+9D	
Naranja	7U+2UM+6C	
Mandarina	3C+3UM	
Mango	5C+3U+5UM+1D	
Mora	7U+9C	
chocolate	6C+5UM+6D+3U	


6. COLOREA LOS PECES SEGÚN LA CLAVE:

AZUL	Donde el 4 vale 40
ROJO	Donde el 7 vale 700


VERDE	Donde el 8 vale 8
AMARILLO	Donde el 6 vale 6.000




7.341




1.849




3.468



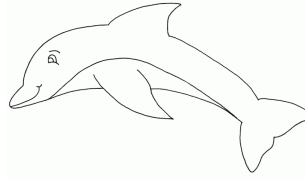
2.759




4.799



6.350



7.138



6.957

7. RESUELVE LOS SIGUIENTES PROBLEMAS:

Paola tiene 980 dulces y le regala 771 dulces a su amigo José. ¿Cuántas dulces tendrá ahora Paola?

Respuesta:

En un colegio hay 885 estudiantes. Si 596 son niños. ¿Cuántas niñas hay?

Respuesta:

En una finca hay 786 pollos y 398 vacas. ¿Cuántos animales hay en toda la finca?

Respuesta:

En una fábrica hay 765 mujeres y 599 hombres. ¿Cuántos trabajadores tiene la fábrica?

Respuesta: