

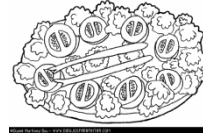



TALLER PROBLEMAS SUMA Y RESTA MATEMATICAS

OBSERVE LOS ALIMENTOS, ANALICE Y RESUELVA LAS PREGUNTAS:



Hamburguesa	Papas fritas	Perro caliente	Helado	Pizza	Torta
\$ 5.800	\$ 3.300	\$ 4.500	\$ 3.350	\$ 2.990	\$ 2.300



Gaseosa	Pollo asado	Pescado frito	Ensalada	arroz	sándwich
\$ 980	\$ 9.900	\$ 8.900	\$ 2.350	\$ 2.300	\$ 3.400

- ¿La comida mas costosa es? _____
- ¿la comida menos costosa es? _____
- ¿Qué comidas cuestan IGUAL? _____
- ¿La diferencia entre el precio de la hamburguesa y el pollo es?

- ¿La diferencia entre el precio del pollo y el pescado es?

- ¿Cuánto más cuesta el helado que la torta?

- ¿Cuánto más cuesta el perro caliente que las papas fritas?

- Si Daniel pide: una pizza, una gaseosa y un helado ¿Cuánto tendrá que pagar?

9. ¿Cuánto dinero le sobrará a Daniel si solo tiene \$9.905?

10. Si María pide: arroz, ensalada y pescado frito ¿Cuánto dinero pagará?

11. Quién gasto más dinero en la comida, ¿ Daniel o María? _____


12. Si María tiene \$ 16.700 ¿Cuánto dinero le quedará?

13. ¿Cuánto costará comprar solo una gaseosa y un sándwich?

14. ORDENA EN EL SIGUIENTE CUADRO DE "MAYOR A MENOR" PRECIO Y COMPLETA:

ALIMENTO	PRECIO (\$)				
	DM	UM	C	d	u
TOTAL					

OBSERVE LOS JUGUETES, ANALICE Y RESPONDA CADA PREGUNTA:



OSO	CARRITO	BALON	TROMPO	MUÑECA	YO-YO
\$ 2.700	3.205	3.679	1.170	4.780	1.710

- ¿Qué juguete tiene el precio menor? _____
- ¿Qué juguete cuesta más? _____
- ¿Cuánto dinero debe pagar Jaimito por comprar dos carritos y un trompo?

- ¿Cuánto dinero debe pagar Pedrito por comprar un oso y un balón?

- Si Catalina va a la juguetería con un billete de \$ 5.000 y compra una muñeca, ¿Cuánto dinero le sobraré?

- ¿Cuánto mas vale el balón que el carrito?

- ¿Cuánto más vale el yoyo que el trompo?

Juguete	PRECIO (\$)				
	DM	UM	C	d	u
TOTAL					

- Ordenando de “menor a mayor” llena el cuadro y Complétalo: